

Toys for Life
Home education by Educo

Sales office

Europe - Africa

Industriepark 14
7021 BL Zelhem
The Netherlands
P +31- 88 2035 700
P +31- 314 791 023
E info@heutink.com

Sales office

USA

150, South Whisman Road
Mountain View, CA 94041-1512
USA
P +1-650-964-2735
F +1-650-964-8162
E info@heutink-usa.com

Sales office

Asia - Pacific

9-27 Nanhai Road
315800 Ningbo-Beilun
China
P +86-574-8685 7556
F +86-574-8686 9257
E info@educationall.com
welcome@educationall.com

10x



30x



30x



COUNT THE APPLES

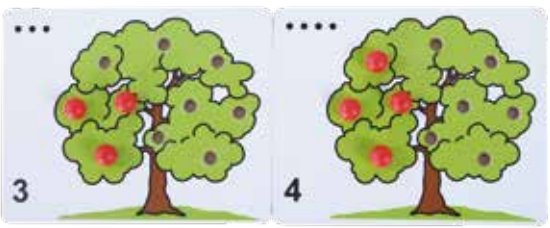
I learn to count up to 10

EN: Fill trees with the amount of red apples, indicated by a number symbol and dots. Complete trees with green apples up to 10. Develop fine motor skills. **NL:** Vul de bomen met evenveel rode appels, als aangegeven met stippen en een getalsymbool. Vul de bomen aan met groene appels. Ontwikkel het aanvullen van getallen tot en met 10 en de fijne motoriek. **DE:** Die Bäume mit einer Anzahl roter Äpfel entsprechend Punktzahl und Zahlensymbol füllen. Dann die Bäume mit grünen Äpfeln vervollständigen. Dabei das Ergänzen im Zahlenraum 10 und die Feinmotorik üben. **FR:** Remplissez les arbres avec autant des pommes rouges indiquées, avec des points et un symbole numérique. Complétez les arbres avec des pommes vertes. Développer l'ajout des chiffres jusqu'à 10 et de la motricité fine. **SP:** Llena los árboles con tantas manzanas rojas como se muestra en los puntos y en el símbolo numérico. Completa los árboles con manzanas verdes. Desarrollar la suma de los números hasta 10 y las habilidades motoras finas. **CN:** 幼儿通过树上的苹果来培养计数和加法能力。每棵树的旁边都标有1-10的数字和点数，把红苹果和青苹果放到树上去吧！该款游戏可以帮助幼儿完成10以内的熟练计数；提高精细动作能力。

Instructions

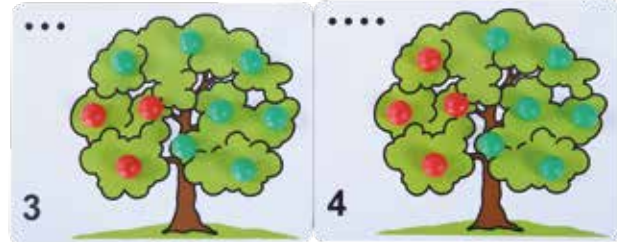
uitleg Erklarung explication explicaci3n 游戏步骤

1




EN: Place the right amount of red apples into the tree. This is indicated by a number symbol and dots. **NL:** Plaats het juiste aantal rode appeltjes in de boom. Het cijfer en het aantal stippen geven dit aantal aan. **DE:** Die Anzahl roter pfel entsprechend der Zahl und Punktzahl in den Baum legen. **FR:** Dans l'arbre, placez la bonne quantit de pommes rouges. Le nombre et aussi la quantit de points indiquent ce nombre. **SP:** Coloca la cantidad correcta de manzanas rojas en el rbol. La cifra y el nmero de puntos indican cuntas debes colocar. **CN:** 根据数字和点数指示, 放置相应数量的红苹果到果树上。

2



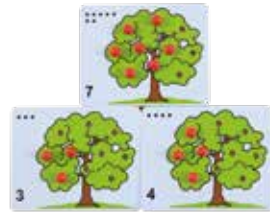
EN: Place the right amount of red apples into the tree. Fill the rest of the tree with green apples. Make the sum: '3 red apples and 7 green apples make 10 apples together.' In this way, you practise splitting up numbers up to 10. **NL:** Plaats het juiste aantal rode appeltjes in de boom. Vul de boom verder met groene appeltjes. Maak de som: '3 rode appeltjes en 7 groene appeltjes is samen 10 appeltjes.' Oefen zo alle splitsingen van het getal 10. **DE:** Die richtige Anzahl roter pfel in den Baum legen. Dann den Baum weiter mit grnen pfeln fllen. Diese zusammenzhlen: „3 rote und 7 grne pfel sind zusammen 10 pfel.“ Dabei alle Zahlzerlegungsm3glichkeiten der Zahl 10 ben. **FR:** Dans l'arbre, placez la bonne quantit de pommes rouges. Continuez  remplir l'arbre avec des pommes vertes. Faites le calcul : "3 pommes rouges et 7 pommes vertes font 10 pommes." De m3me manire, pratiquez toutes les divisions du nombre 10. **SP:** Coloca la cantidad correcta de manzanas rojas en el rbol. Contina llenando el rbol con manzanas verdes. Haz la suma: "3 manzanas rojas ms 7 manzanas verdes igual a 10 manzanas". Practica todas las divisiones del nmero 10 de esta manera. **CN:** 放置正确数量的红苹果到果树上, 剩余空位放上绿苹果。

3



EN: Place the right amount of apples into the tree. Use both red and green in different ways: '6 is 5 red and 1 green, but 6 is also 4 red and 2 green, or 6 is 3 red and 3 green'. In this way, you practise splitting up numbers up to 10. **NL:** Plaats het juiste aantal appeltjes in de boom. Gebruik beide kleuren op verschillende manieren: '6 is 5 rood en 1 groen' maar '6 is ook 4 rood en 2 groen' of '6 is 3 rood en 3 groen'. Oefen zo alle splitsingen van de getallen tot 10. **DE:** Die richtige Anzahl pfel in den Baum geben. Dabei beide Farben unterschiedlich einsetzen: „6 ist 5 rote und 1 grner“; aber „6 ist auch 4 rote und 2 grne“ oder „6 ist 3 rote und 3 grne“. Dabei alle Zahlzerlegungsm3glichkeiten im Zahlenraum 10 ben. **FR:** Dans l'arbre, placez la bonne quantit de pommes. Utilisez les deux couleurs de manire diffrente : "5 rouges et 1 vertes font 6" mais "4 rouges et 2 vertes font 6 aussi" ou "3 rouges et 3 vertes font 6". De cette faon, pratiquez toutes les divisions de tous les nombres jusqu' 10. **SP:** Coloca la cantidad correcta de manzanas en el rbol. Usa ambos colores de diferentes maneras: "6 es igual a 5 rojas y 1 blanca" pero "6 tambin es igual a 4 rojas y 2 blancos" o "6 es igual a 3 rojas y 3 blancos". Practica todas las divisiones de los nmeros hasta el 10 de esta manera. **CN:** 放置正确数量的苹果到果树上。用红绿两种颜色苹果的不同加和方式, 例如: “6可以是5红加1绿, 但6也可以是4红加2绿, 或者是3红加3绿”。用这种方式, 练习10以内数的分解。

4



EN: Place the right amount of red apples into the tree. Can you make with 2 other boards the same amount? For example: 7 red apples on a board equals 7 red apples on board 3 and 4 together'. **NL:** Plaats het juiste aantal rode appeltjes in een boom. Kun je met 2 andere plankjes dezelfde hoeveelheid maken? Bijvoorbeeld: 7 rode appeltjes op een plankje is evenveel als 7 rode appeltjes op plankje 3 en 4 samen'. **DE:** Die richtige Anzahl roter pfel in den Baum geben. Kann mit 2 anderen Brettchen dieselbe Anzahl erreicht werden? Beispiel: 7 rote pfel auf einem Brettchen sind genauso viel wie 7 rote pfel auf den Brettchen 3 und 4 zusammen. **FR:** Dans l'arbre, placez la bonne quantit de pommes rouges. Peut-tu faire le m3me montant avec 2 autres planchettes ? Par exemple : les 7 pommes rouges sur le planchette sept, quivalent aux 7 pommes rouges sur les planchettes trois plus quatre. **SP:** Coloca la cantidad correcta de manzanas rojas en un rbol. Puedes hacer la misma cantidad con otras 2 tablas? Por ejemplo: 7 manzanas rojas en un tablero son iguales a 7 manzanas rojas de los tableros 3 y 4 juntos. **CN:** 放置正确数量的红苹果到果树上, 你能在其它2块板上放上数量总和与之相等的苹果么? 例如“一块板上的7个苹果等于另外2个板上3个和4个苹果的总和”。

