

Inklusionskiste für gemeinsames Lernen

Mathematik / Klasse 1 und 2



Einfache Lernstationen

Geld

Einfach loslegen mit dem Lesetraining!

Das Lernportal zur Förderung
von Leseanfängern und Kindern
mit Förderbedarf im Unterricht
und zu Hause!

www.leseludi.de



www.lernrudi.de



Lernrudi – das Lernportal für Deutsch als Zweitsprache

Ein spielerisches Deutschtraining
mit Sprachausgabe!

© Jens Sonnenberg 2019
Alle Rechte vorbehalten.

Der Erheber dieses Werkes ist berechtigt, das Werk als Ganzes oder in seinen Teilen für den Einsatz im eigenen Unterricht zu nutzen. Downloads und Kopien dieser Seiten sind nur für den eigenen Gebrauch bzw. die Nutzung im Unterricht gestattet, nicht jedoch für einen weiteren kommerziellen Gebrauch, für die Weiterleitung an Dritte oder für die Veröffentlichung im Internet oder Intranets.

Das Werk als Ganzes sowie in seinen Teilen unterliegt dem deutschen Urheberrecht.

Die Vervielfältigung, Bearbeitung, Verbreitung und jede Art der Verwertung außerhalb der Grenzen des Urheberrechtes bedürfen der vorherigen schriftlichen Zustimmung des Autors.

Der Autor haftet nicht für die Inhalte externer Sites, die Sie mittels eines Links oder sonstiger Hinweise erreichen bzw. für direkte oder indirekte Schäden, die auf Informationen zurückgeführt werden können, die auf diesen externen Websites stehen.

Satz: schönWERK Mediendesign Miriam Theede, Zeven
Grafiken: Katarina Reichert-Scarborough / Samira Manthey

ISBN: 978-3-96279-018-9

www.inklusionskiste.de



Station 1		Station 10	
A/B – Euro oder Cent?	4	A/B – Einkaufen und bezahlen	22
Münzen (Euro/Cent) und Scheine den entsprechenden Sparschweinen zuordnen		Münzen und Scheine zum Bezahlen eines Gegenstandes malen und aufschreiben	
Station 2		Station 11	
A / B – Wie viel ist in der Geldbörse? ...	6	A/B – Was haben sie gekauft?	24
Den Geldbetrag zweier Münzen bzw. Scheine bestimmen		Anhand eines ausgegebenen Betrages gekaufte Waren bestimmen	
Station 3		Station 12	
A/B – Wie viel ist im Sparschwein?	8	A/B – Rückgeld berechnen	26
Geldbeträge von mehreren Münzen bestimmen		Einkaufen und das Rückgeld berechnen	
Station 4		Station 13	
A/B – Sparschweine füllen	10	Domino und Memory-Spiel	28
Angegebene Geldbeträge in Cent legen und malen		Zusatzmaterial für Förderaufgaben	
Station 5		Übersicht Münzen und Scheine	32
A/B – Mit Spielgeld legen	10	Münzen und Geldbeträge verbinden	33
Angegebene Geldbeträge in Euro und Cent legen und malen		Gleiche Münzen finden	34
Station 6		Der Cent-Automat	35
A/B – Geld vergleichen	10	Der Euro-Automat	36
Zwei Münzen oder Scheine miteinander vergleichen (einkreisen/Zwischen setzen)		Geld wechseln	37
Station 7		Zusatzmaterial für Entdeckeraufgaben	
A/B – Sparschweine vergleichen	16	Immer 5! / Sachaufgaben	38
Mehrere Münzen oder Scheine miteinander vergleichen (ankreuzen/Zwischen setzen)		Sparen – Wer hat wie viel?	39
Station 8		Spiel – Sparschwein-Raten	40
A/B – Sparschweine füllen	18	Anhang	
Geldbetrag aus mehreren Münzen und Scheinen malen		Spielgeld zum Ausschneiden und Legen/Aufkleben	41
Station 9		Stationsschilder	42
A/B – Ein Geldbetrag – was fehlt?	20	Mein Laufzettel	43
Fehlende Münzen zu einem Geldbetrag malen		Mein Laufzettel (Blanko-Vorlage)	44
		Lösungen zur Selbstkontrolle	45



A – einfachere Aufgaben

Differenzierungsstufen



B – schwierigere Aufgaben

1

Euro oder Cent?



Euro oder Cent? Verbinde.



Übe.



€								
€								
ct								
ct								

1

Euro oder Cent?



Euro oder Cent? Verbinde.



Ordne nach dem Wert.

Cent

1 ct					
------	--	--	--	--	--

Euro

1 €					
-----	--	--	--	--	--

2






Wie viel ist in der Geldbörse?



Wie viel Geld ist es? Schreibe es auf.



7 ct




INKLUSIONSKISTE

2




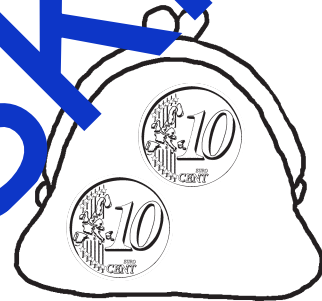


Wie viel ist in der Geldbörse?



Wie viel Geld ist es? Schreibe es auf.




12 ct




INKLUSIONSKISTE

3







Wie viel ist im Sparschwein?



Wie viel Geld ist es? Schreibe es auf.




4 €










INKLUSIONSKISTE

3

Wie viel ist im Sparschwein?




Wie viel Geld ist es? Schreibe es auf.




INKLUSIONSKISTE




Male das Geld. Du kannst es auch erst mit Spielgeld legen.



3 ct




7 ct




ct




9 ct




4 ct



6 ct




10 ct




8 ct




Male das Geld. Du kannst es auch erst mit Spielgeld legen.




7 ct




12 ct




ct




17 ct




13 ct



15 ct




16 ct




20 ct

5

Mit Spielgeld legen



Lege mit Spielgeld. Nutze so wenig Münzen wie möglich. Male.



7 €	
-----	--

4 €	
-----	--

9 €	
-----	--

8 €	
-----	--

5 €	
-----	--

10 €	
------	--

10 ct	
-------	--

ct	
----	--

5 ct	
------	--

8 ct	
------	--

INKLUSIONSKISTE

5

Mit Spielgeld legen



Lege mit Spielgeld. Nutze so wenig Münzen oder Scheine wie möglich. Schreibe die Rechnung auf.



14 €	
16 ct	
13 €	
10 €	
19 ct	
11 €	
20 €	
17 ct	
18 €	
12 ct	

INKLUSIONSKISTE



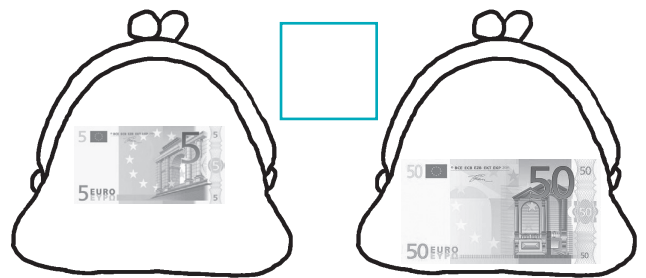
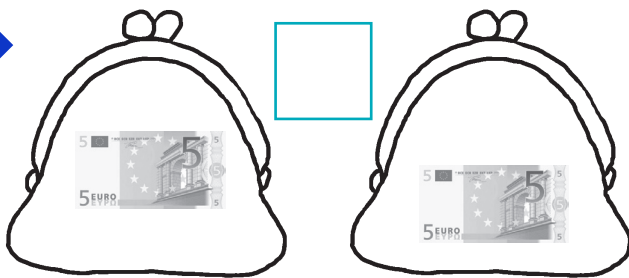
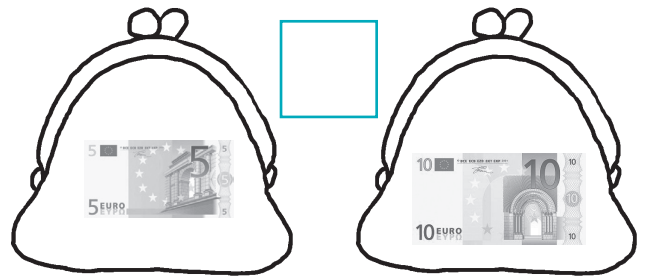
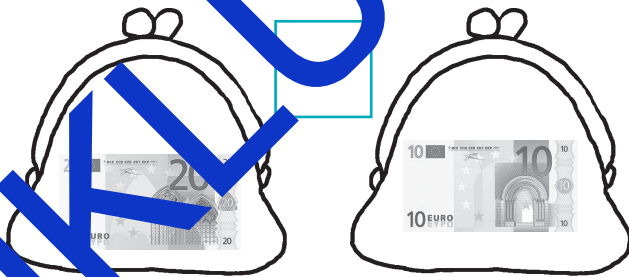
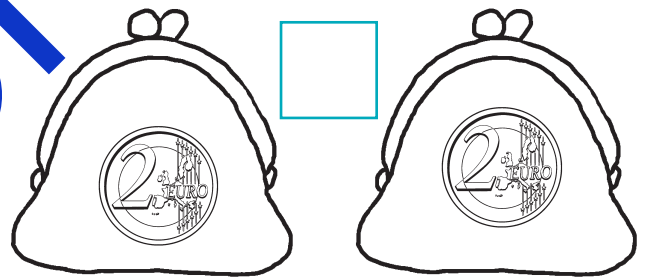
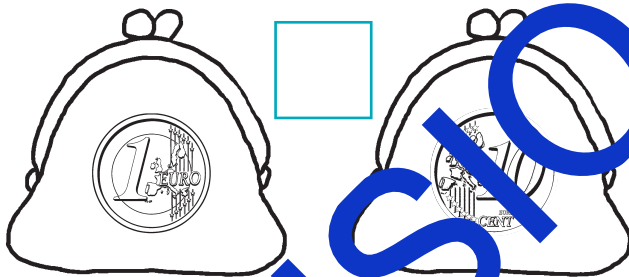
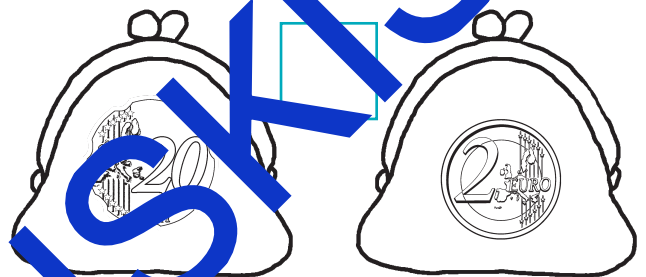
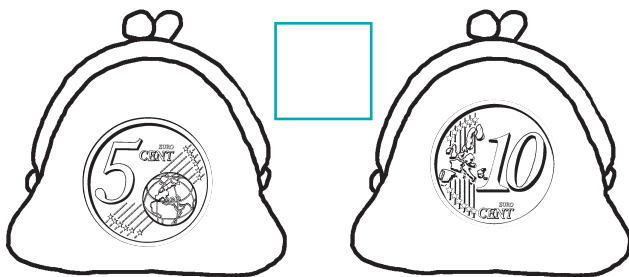
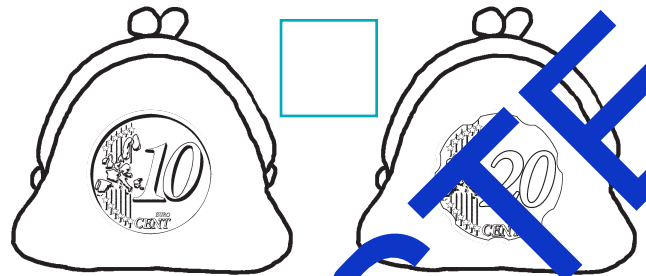
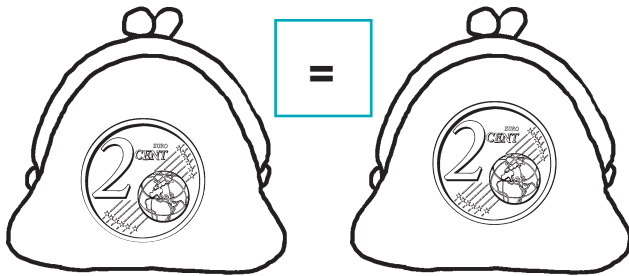
In welcher Geldbörse ist mehr? Kreise sie ein.

6

Geld vergleichen




In welcher Geldbörse ist mehr? Vergleiche und setze das richtige Zeichen



INKLUSIONSKISTE



Wie viel Geld hat jeder? Setze ein. Wer hat mehr Geld? Kreuze an.



Leni _____ €



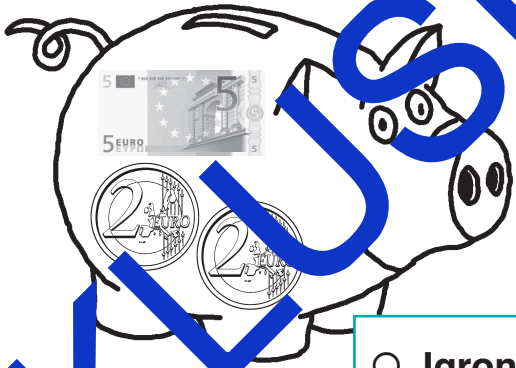
Ott _____ €



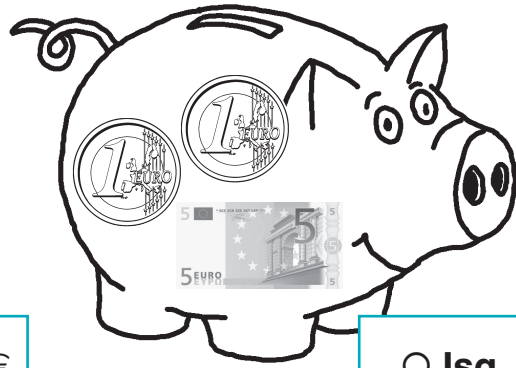
Luko _____ €



Azra _____ €



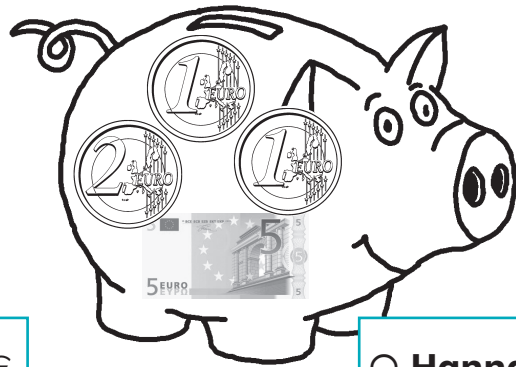
Jaron _____ €



Isa _____ €



Robin _____ €




Hanna _____ €



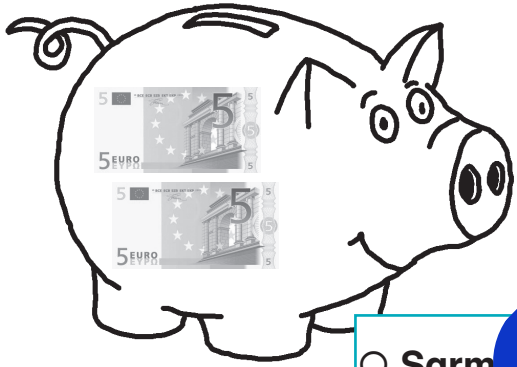
Wie viel Geld hat jeder? Wer hat mehr Geld? Setze ein: > oder < .




Eslem _____ €




Clara _____ €



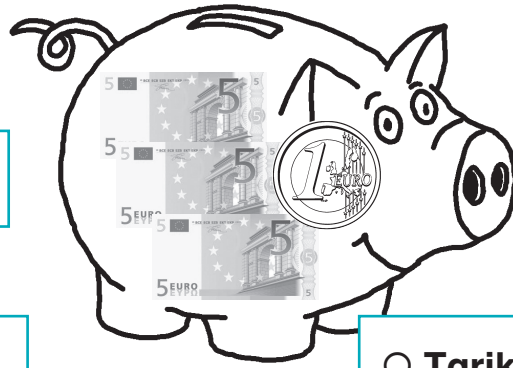
Sarmat _____ €




Lena _____ €




Max _____ €



Tarik _____ €




Tamia _____ ct




Elli _____ ct

8


Sparschweine füllen




Lege zuerst mit Spielgeld. Male das Geld.




4 €



7 €




3 €




6 €




5 €



9 €



10 €




8 €

8


Sparschweine füllen




Lege zuerst mit Spielgeld. Male das Geld.



12 €



14 €




16 €




18 €




19 ct



14 ct



18 ct



17 ct

9

Ein Geldbetrag - was fehlt?



Finde die fehlenden Münzen.

5 ct

7 ct

2 ct

1 ct

5 ct

2 ct

1 ct

6 ct

2 ct

8 ct

5 ct

10 ct

2 ct

5 ct

10 ct

5 ct

1 ct


10 ct

2 ct

10 ct

9

Ein Geldbetrag - was fehlt?



Finde die fehlenden Münzen.

5 Cent

10 ct

5 Cent

10 ct

15 ct

12 ct

18 ct

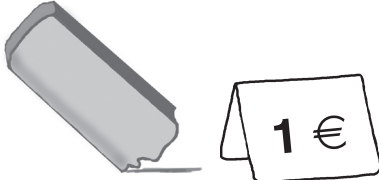




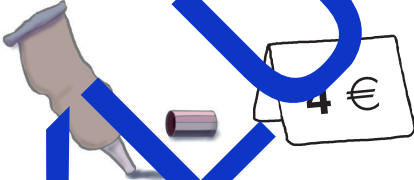

16 ct

20 ct

20 ct



Schreibe auf und male, wie du bezahlst.

Du kaufst	Du bezahlst
	
	
	
	
	
	
	


INKLUSIONSKISTE



Schreibe auf und male, wie du bezahlst.

Du kaufst	Du bezahlst
	
	
	
	
	
	
	

INKLUSIONSKISTE



Jeder hat zwei Dinge oder mehr. Was haben die Kinder gekauft?

Ich habe 3 Euro ausgegeben.

Ich habe 5 Euro ausgegeben.

Ich habe 6 Euro ausgegeben.

Ich habe 8 Euro ausgegeben.

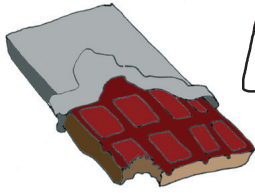













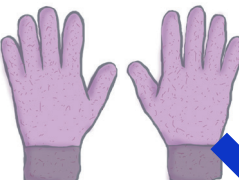



Ich habe 9 Euro ausgegeben.

Ich habe 10 Euro ausgegeben.

INKLUSIONSKISTE



Jeder hat zwei Dinge oder mehr. Was haben die Kinder gekauft?


 	 	 
 	 	 
 	 	 



Ich habe 10 Euro ausgegeben.



Ich habe 14 Euro ausgegeben.



Ich habe 19 Euro ausgegeben.



Ich habe 17 Euro ausgegeben.





Ich habe 20 Euro ausgegeben.




Ich habe 20 Euro ausgegeben.



Wie viel Geld bekommst du zurück?
Es sind möglichst wenig Münzen oder Scheine.
Male und schreibe.

Du hast	Du kaufst	Du bekommst zurück	Das sind
	 		
	 		
	 		
	 		
	 		
	 		
	 		

INKLUSIONSKISTE



Wie viel Geld bekommst du zurück? Es sind möglichst wenig Münzen oder Scheine.
Male und schreibe.




Du hast	Du kaufst	Du bekommst zurück	Das sind

INKLUSIONSKISTE




Start




Ziel

INKLUSIONSKISTE



 Start	 20 ct	
2 €	 5 €	
10 ct	 1 ct	
50 ct	 1 €	
5 ct	 5 ct	
10 €	 20 €	 Ziel

INKLUSIONSKISTE



INKLUSIONSKISTE




			
			
		5 €	10 €
1 ct	2 ct	5 ct	10 ct
20 ct	50 ct	1 €	2 €

INKLUSIONSKISTE

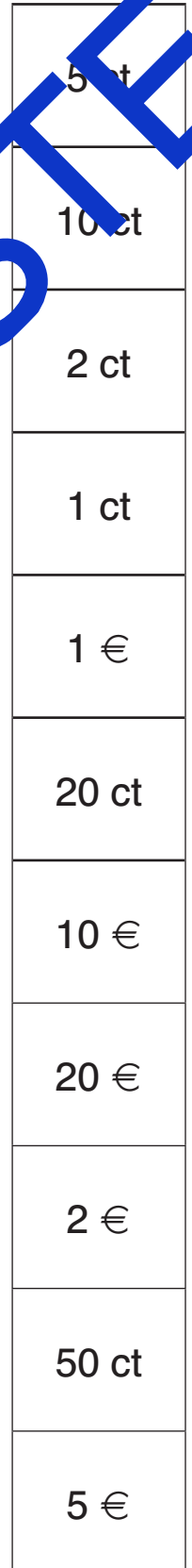



Ergänze die Tabelle.

	Male.	Euro/Cent	€/ct
1 ct	①	1 Cent	1 ct
2 ct			2 ct
5 ct			5 ct
10 ct			10 ct
20 ct			20 ct
50 ct			50 ct
1 €			1 €
2 €			2 €
5 €			5 €
10 €			10 €
20 €			20 €
50 €			50 €



Verbinde.



INKLUSIONSKISTE

Gleiche Münzen finden



Kreise alle gleichen Münzen mit der gleichen Farbe ein.



Wie viele sind es?

1 ct		5 ct		20 ct	
2 ct		10 ct		50 ct	

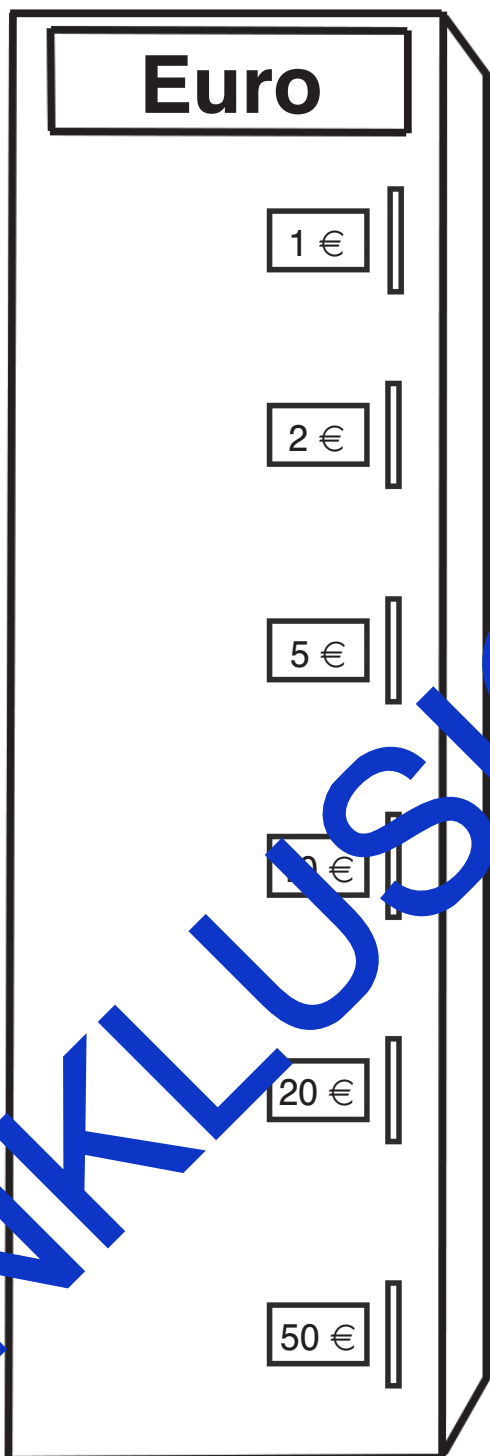


Der Cent-Automat ordnet die Münzen. Verbinde.

The image shows a cent machine on the left with six slots labeled: 1 ct, 2 ct, 5 ct, 10 ct, 20 ct, and 50 ct. To the right of the machine are several Euro cent coins of different denominations: 1 ct, 2 ct, 5 ct, 10 ct, 20 ct, and 50 ct. A line connects the 1 ct slot to a 1 ct coin. A large blue watermark 'INKLUSIONSKISTE' is written diagonally across the entire page.









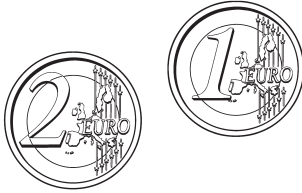







Der Euro-Automat ordnet Münzen und Scheine. Verbinde.



INKLUSIONSKISTE




Male an, wie viele Einer es sind.

INKLUSIONSKISTE




Finde immer 5 verschiedene Möglichkeiten.



1. _____
2. _____
3. _____
4. _____
5. _____

1. _____
2. _____
3. _____
4. _____
5. _____



1. _____
2. _____
3. _____
4. _____
5. _____




Lena sagt: Ich habe viel mehr Münzen als du in meinem Sparschwein, also habe ich mehr Geld. Stimmt das? Begründe.




Emma und Lena haben beide 5 Euro gespart. Emma hat doppelt so viele Münzen wie Lena. Male.







Wie viel Geld hat jedes Kind gespart? Trage ein.




Pia _____ €



Tinka _____ €



Paula _____ €



Tamia _____ €

Welches Kind hat am meisten gespart? _____

Welches Kind hat am wenigsten gespart? _____

Wer hat 2 € weniger als Pia? _____



Wer hat 1 Euro mehr als Tamia? _____

Wer hat die meisten Münzen? _____



Ratet, wie viel Geld der andere in seinem Sparschwein hat.

Kind 1	Kind 2
<p>Male Münzen und Scheine in dein Sparschwein.</p> <p>Sage deinem Partner, wie viel Geld in deinem Sparschwein ist.</p> <p>Du kannst die Fragen deines Partners so beantworten: mehr oder weniger.</p>	<p>Finde durch Fragen heraus, welche Scheine und Münzen dein Partner verwendet hat.</p> <p>Notiere dir, was du gefragt hast.</p>
<p>Tauscht die Rollen.</p>	



Münzen und Scheine - Spielgeld zum Ausschneiden und Legen



STATION



STATION





Name: _____

Station	Thema	 A	 B	✓	Kontrolle
1	Euro oder Cent?				
2	Wie viel ist in der Geldbörse?				
3	Wie viel ist im Sparschwein?				
4	Sparschweine füllen				
5	Mit Spielgeld legen				
6	Geld vergleichen				
7	Sparschweine vergleiche				
8	Sparschweine füllen				
9	Ein Geldbetrag was fehlt?				
10	Einkaufen und bezahlen				
11	Was haben sie gekauft?				
12	Rückgeld berechnen				
13	Domino und Memo-Spiel				

INKLUSIONSKISTE



Name: _____

Station	Thema	 A	 B	✓	Kontrolle
1					
2					
3					
4					
5					
6					
7					
8					
9					
10					
11					
12					
13					

INKLUSIONSKISTE

1

Euro oder Cent?




Euro oder Cent? Verbinde.

Übe.

€								
€								
ct								
ct								

1

Euro oder Cent?



Euro oder Cent? Verbinde.

Ordne nach dem Wert.

Cent


1 ct	2 ct	5 ct	10 ct	20 ct	50 ct
------	------	------	-------	-------	-------

Euro


1 €	2 €	5 €	10 €	20 €	50 €
-----	-----	-----	------	------	------

2


Wie viel ist in der Geldbörse?




Wie viel Geld ist es? Schreibe es auf.




7 ct




3 ct



4 ct



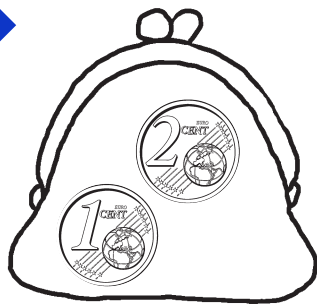
6 ct




2 ct



10 ct



3 ct




7 ct

2


Wie viel ist in der Geldbörse?



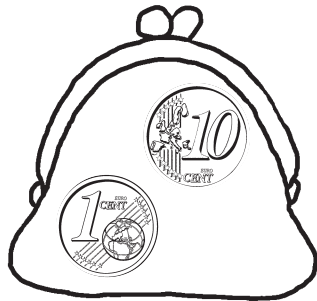
Wie viel Geld ist es? Schreibe es auf.



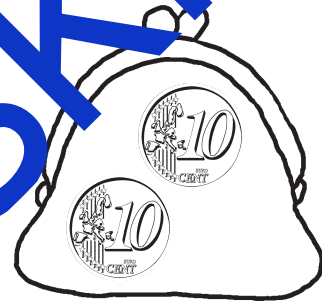
12 ct




15 ct



11 ct




20 ct




15 ct



7 ct




12 ct




4 ct

3


Wie viel ist im Sparschwein?




Wie viel Geld ist es? Schreibe es auf.




4 €




6 €




7 €




8 €




8 ct



6 ct



11 ct



17 ct


INKLUSIONSKISTE

3


Wie viel ist im Sparschwein?



Wie viel Geld ist es? Schreibe es auf.




6 €




9 €




1 €




19 €




13 ct



19 ct



14 ct

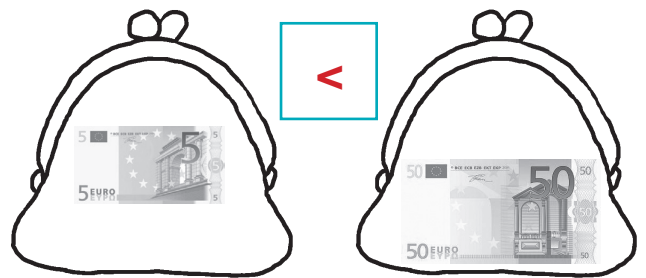
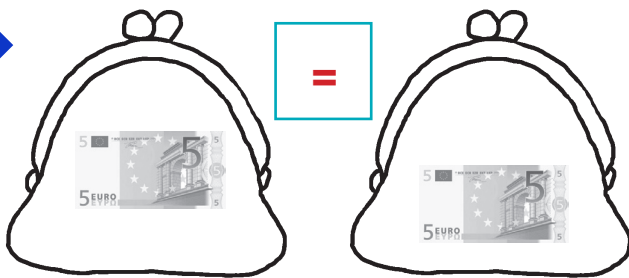
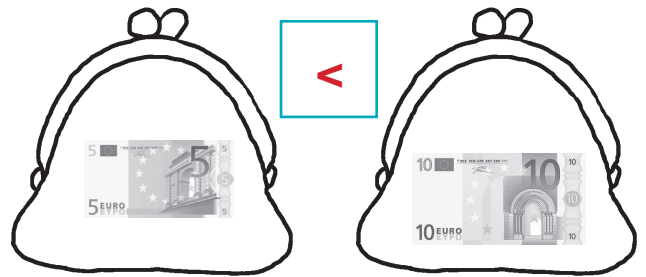
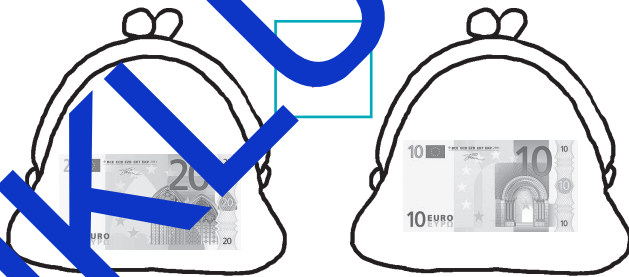
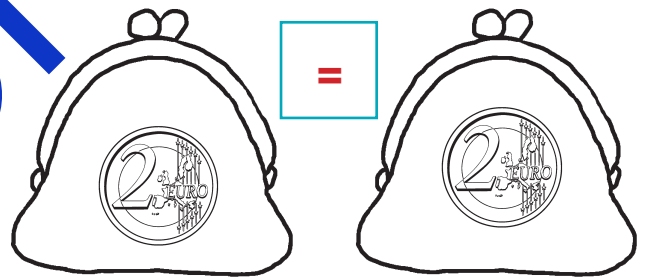
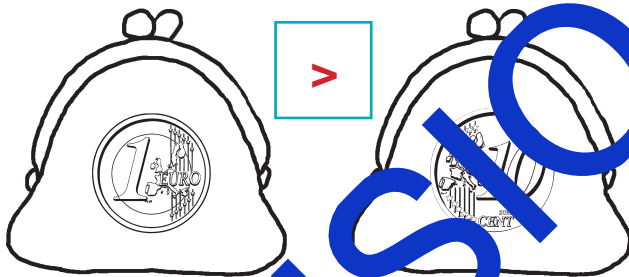
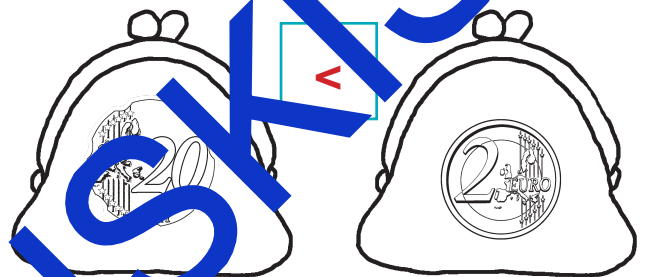
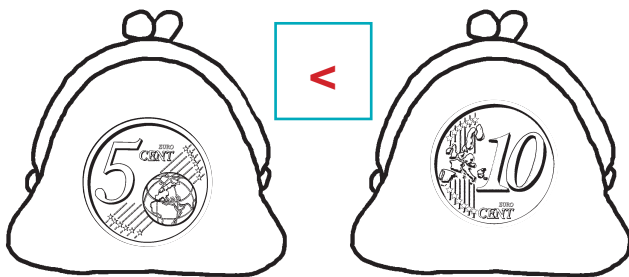
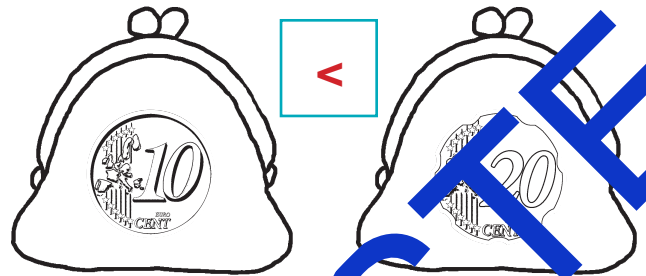
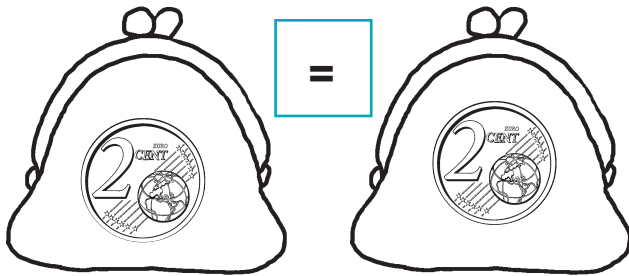


11 ct

INKLUSIONSKISTE




In welcher Geldbörse ist mehr? Vergleiche und setze das richtige Zeichen




INKLUSIONS KISTE




Wie viel Geld hat jeder? Setze ein. Wer hat mehr Geld? Kreuze an.



Leni 4 €



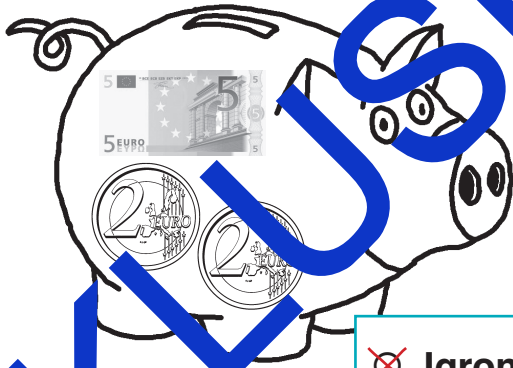
Otti 5 €



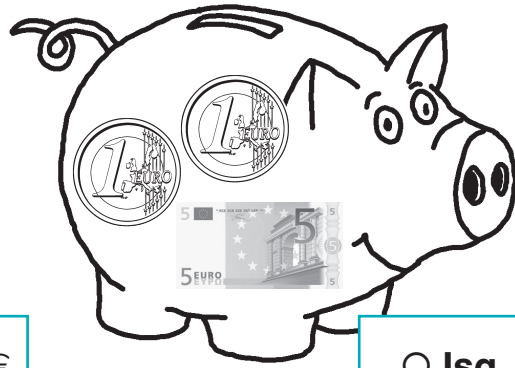
Luko 6 €



Azra 7 €



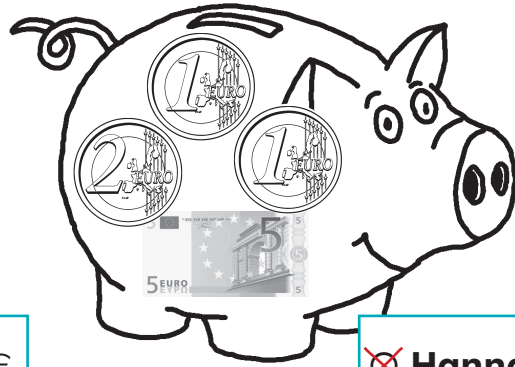
Jaron 9 €



Isa 7 €



Robin 8 €



Hanna 9 €




Wie viel Geld hat jeder? Wer hat mehr Geld? Setze ein: > oder < .

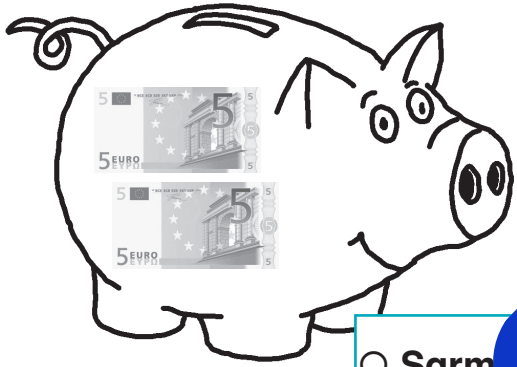


<

Eslem 7 €




Clara 8 €




<

Sarmat 10 €

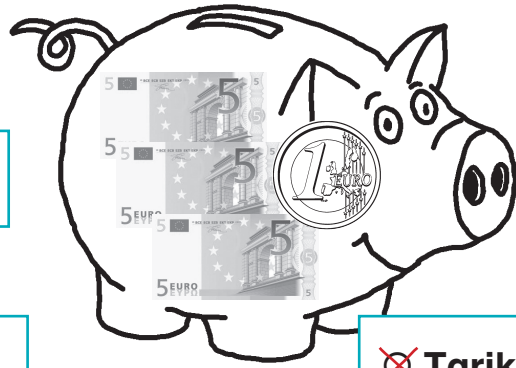


Lena 11 €




<

Max 15 €




Tarik 16 €



>

Tamia 18 ct




Elli 15 ct



Wie viel Geld bekommst du zurück?
Es sind möglichst wenig Münzen oder Scheine.
Male und schreibe.

Du hast	Du kaufst	Du bekommst zurück	Das sind
			2 €
			1 €
			4 €
			3 €
			7 €
			8 €
			9 €

INKLUSIONSKISTE



Wie viel Geld bekommst du zurück? Es sind möglichst wenig Münzen oder Scheine.
Male und schreibe.



Du hast	Du kaufst	Du bekommst zurück	Das sind

INKLUSIONSKISTE



Verbinde.

INKLUSIONSKISTE

Gleiche Münzen finden



Kreise alle gleichen Münzen mit der gleichen Farbe ein.




Wie viele sind es?


1 ct	5	5 ct	3	20 ct	2
2 ct	6	10 ct	4	50 ct	1




Wie viel Geld hat jedes Kind gespart? Trage ein.




Pia 16 €



Tarik 19 €



Paul 15 €



Tamia 14 €

Welches Kind hat am meisten gespart? Tarik

Welches Kind hat am wenigsten gespart? Tamia

Wer hat 2 € weniger als Pia? Tamia

Wer hat 1 Euro mehr als Tamia? Paul

Wer hat die meisten Münzen? Paul und Tarik